



4 sucettes coûtent 2,40 € .

Combien coûtent 6 sucettes ?

Correction :

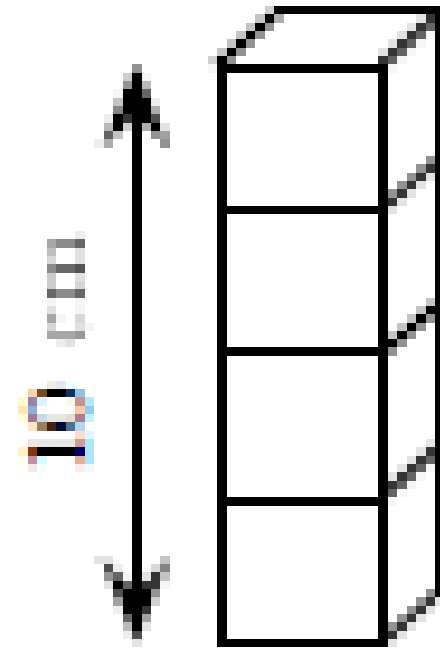
4 sucettes → 2,40 €

2 sucettes → 1,20 €

6 sucettes → 3,60 €

On a des cubes
identiques.

4 cubes empilés ont une
hauteur de 10 cm.



Quelle est la hauteur de 16 cubes ?

Correction :



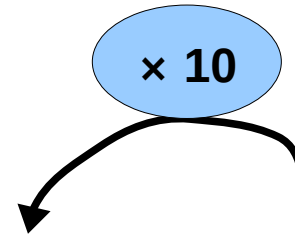
Donner un encadrement au centième de 3,564.

Correction :

3,56 < 3,564 < *3,57*

Quel est le nombre dix fois plus grand que 0,7 ?

Correction :



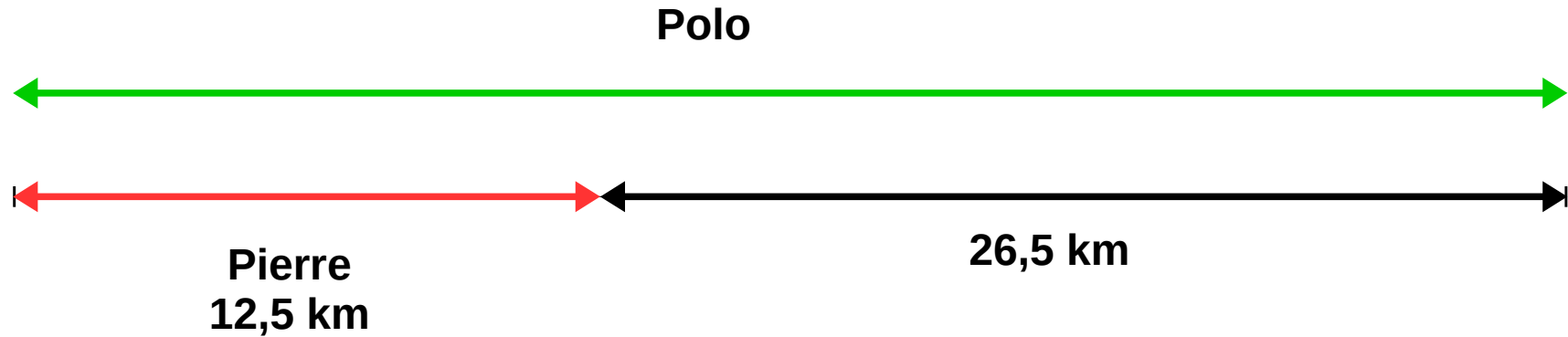
Centaines de mille	Dizaines de mille	Unités de mille	Centaines	Dizaines	Unités	Dixièmes	Centièmes	Millièmes
						7		

Le nombre dix fois plus grand que 0,7 est 7.

**Polo a parcouru 26,5 km de plus
que Pierre qui a fait 12,5 km.**

**Combien de kilomètres Polo
a-t-il parcouru ?**

Correction :



Polo a parcouru :
 $12,5 + 26,5 = 39$ km.