

Calculator :

$$13,1 \times 10$$

Correction :

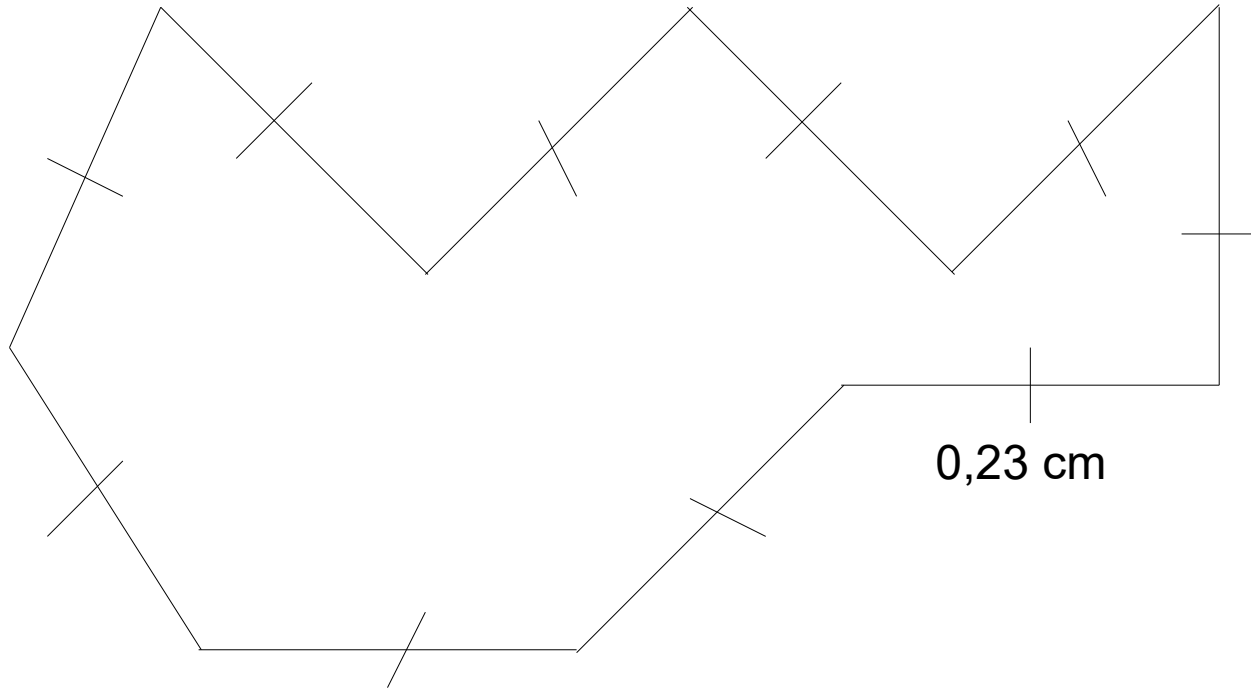
$$13,1 \times 10 = 131$$

Calculator :

$$41,9 \times 0,01$$

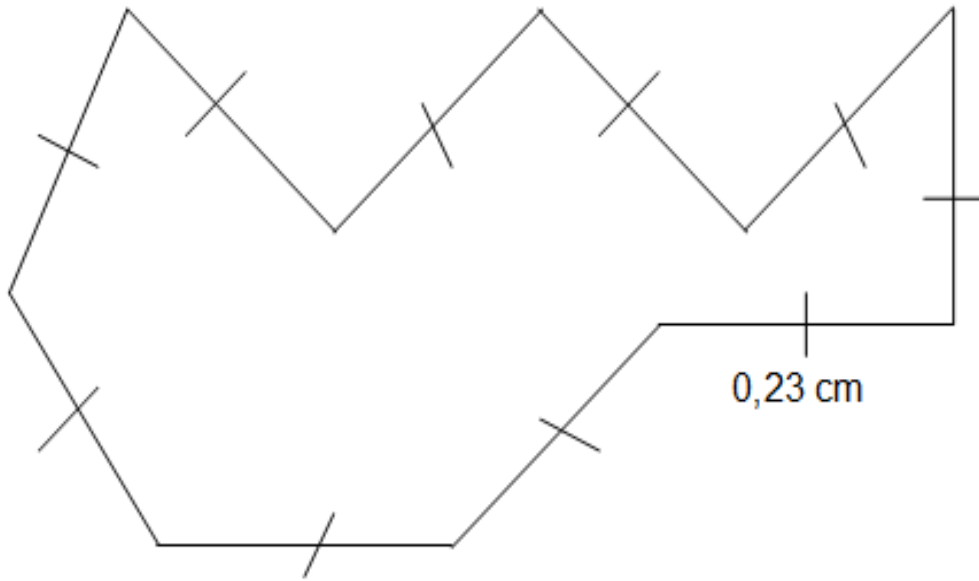
Correction :

$$41,9 \times 0,01 = 0,419$$



Quel est le périmètre de la figure ?

Correction :




**Le périmètre de la figure
est égal à :**

$$10 \times 0,23 = 2,3 \text{ cm}$$



Quel est le périmètre du rectangle ?

Correction :



Le périmètre du rectangle est égal à :

$$P = 2 \times (5,8 + 3,2)$$

$$P = 2 \times 9$$

$$P = \mathbf{18 \text{ cm.}}$$

Donner l'écriture décimale de :

$$14\frac{1}{100}$$

Correction :

$$14 - \frac{1}{100} = 14 - 0,01 = 13,99$$