

9 objets identiques coûtent 7,20 € .

Quel est le prix d'un objet ?

Correction :

Un objet coûte :

$$7,2 \div 9 = 0,80 \text{ €} .$$

$$2 \times \dots = 6,8$$

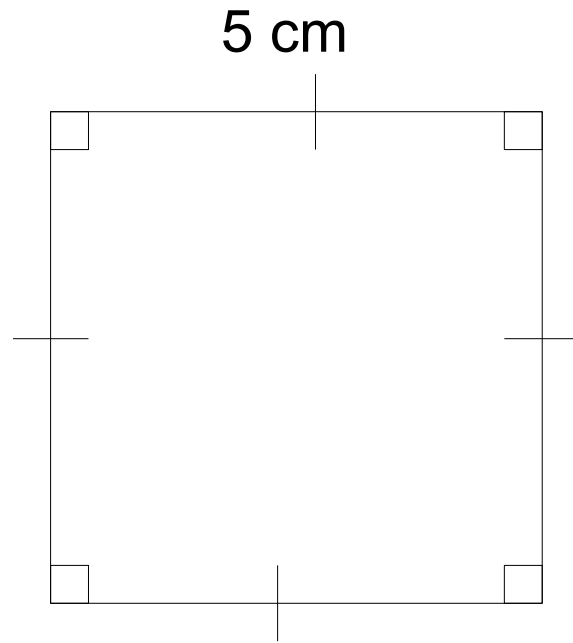
Correction :

$$2 \times \dots\dots = 6,8$$

Le nombre cherché est égal au quotient de 6,8 par 2.

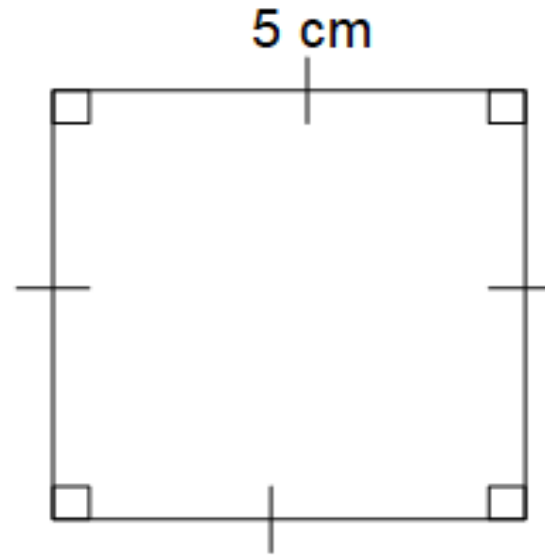
Le nombre cherché est égal à :

$$6,8 \div 2 = 3,4.$$



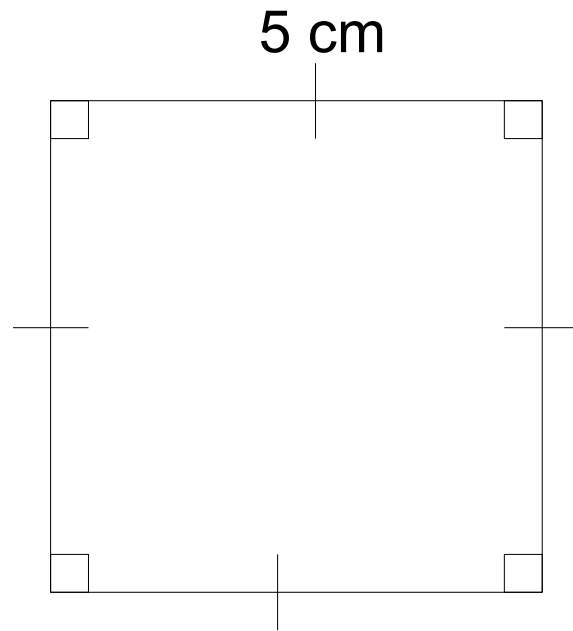
Quel est le périmètre du carré ?

Correction :



Le périmètre du carré est égal à :

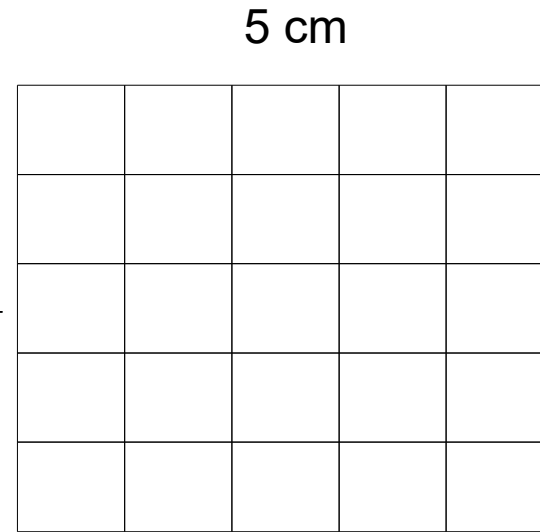
$$4 \times 5 = 20 \text{ cm.}$$



Quelle est l'aire du carré ?

Correction :

Il y a 25 carrés de 1 cm^2 d'aire.



L'aire d'un carré est égale à :
Longueur du côté \times Longueur du côté.

Donc l'aire du carré est égale à :
 $5 \times 5 = 25 \text{ cm}^2$.

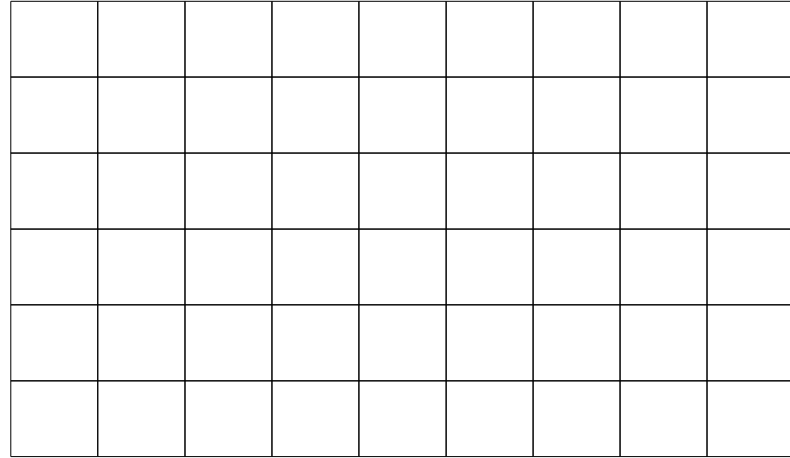


Quelle est l'aire du rectangle ?

Correction :

9 cm

6 cm



Il y a $6 \times 9 = 54$ carrés
de 1 cm^2 d'aire.

L'aire d'un rectangle est égale à :
Longueur \times largeur.

Donc l'aire du rectangle est égale à :
 $9 \times 6 = 54 \text{ cm}^2$.